

6F3 | Operador de Máquinas

Instruções



Confira o número que você obteve no ato da inscrição com o que está indicado no cartão-resposta.

* A duração da prova inclui o tempo para o preenchimento do cartão-resposta.

Para fazer a prova você usará:

- este **caderno de prova**.
- um **cartão-resposta** que contém o seu nome, número de inscrição e espaço para assinatura.

Verifique, no caderno de prova, se:

- faltam folhas e a sequência de questões está correta.
- há imperfeições gráficas que possam causar dúvidas.

Comunique imediatamente ao fiscal qualquer irregularidade!

Atenção!

- Não é permitido qualquer tipo de consulta durante a realização da prova.
- Para cada questão são apresentadas 5 alternativas diferentes de respostas (a, b, c, d, e). Apenas uma delas constitui a resposta correta em relação ao enunciado da questão.
- A interpretação das questões é parte integrante da prova, não sendo permitidas perguntas aos fiscais.
- Não destaque folhas da prova.

Ao terminar a prova, entregue ao fiscal o caderno de prova completo e o cartão-resposta devidamente preenchido e assinado.



29 de janeiro



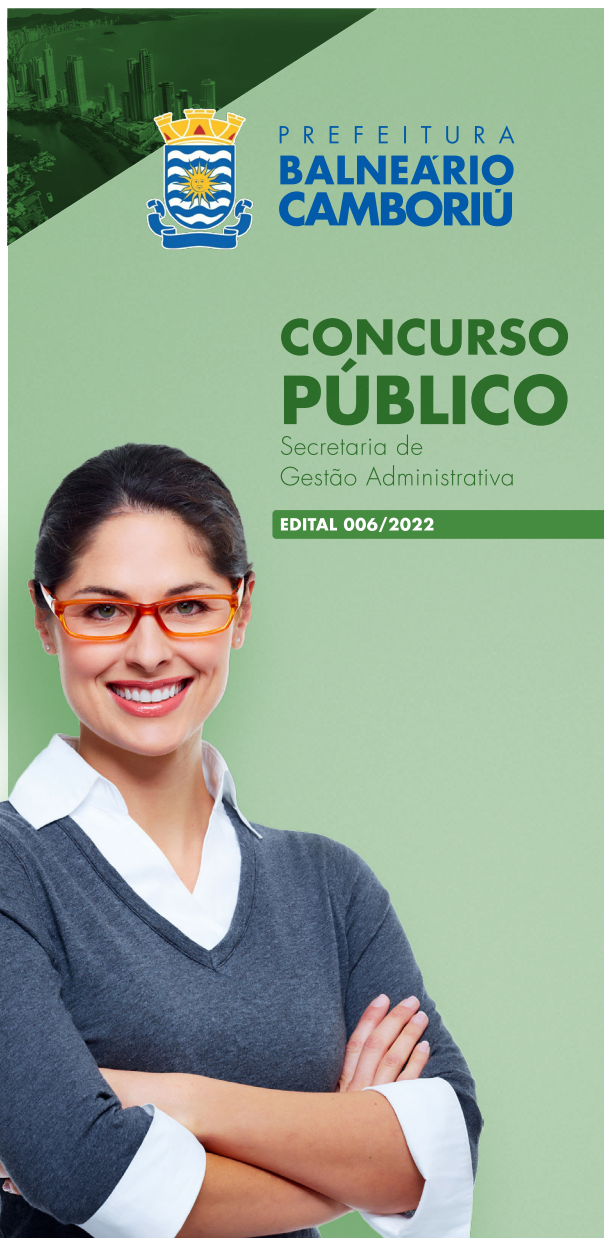
40 questões



8 às 11h



3h de duração*



Língua Portuguesa

10 questões

1. Assinale a alternativa em que **todas** as palavras estão separadas corretamente.

- a. pa-ssa-ri-nho • ca-lo-tei-ro • na-sci-men-to
- b. pas-sa-ri-nho • ca-lo-tei-ro • nas-ci-men-to
- c. pa-ssa-ri-nho • ca-lo-te-i-ro • na-sci-men-to
- d. pas-sa-rin-ho • ca-lo-te-i-ro • na-sci-men-to
- e. pa-ssa-ri-nho • ca-lo-te-iro • na-sci-men-to

2. Assinale a alternativa cuja palavra possua **quatro** sílabas.

- a. terapia
- b. recessão
- c. sustento
- d. alienado
- e. colchete

3. Assinale a alternativa em que o substantivo é feminino.

- a. herpes
- b. profeta
- c. mascote
- d. telegrama
- e. champanha

4. Assinale a alternativa em que **todos** os substantivos estão no grau aumentativo.

- a. salão • vidraça • chuva
- b. saleta • casarão • festa
- c. pezão • jornaleco • fogaréu
- d. corpaço • rapagão • febrícula
- e. balaço • montanha • papelão

5. Assinale a alternativa que indica corretamente o plural das palavras **anel, pão e tênis**.

- a. anels • pães • tênis
- b. anéis • pães • tênis
- c. anels • pães • tênis
- d. anéis • pãos • tênis
- e. anels • pãos • tênis

6. Assinale a alternativa na qual **todos** os substantivos são próprios.

- a. amor • Bidu
- b. mulher • homem
- c. Amazonas • Amélia
- d. Rio de Janeiro • rio
- e. ONU • felicidade

7. Constelação é o coletivo de:

- a. quadros.
- b. planetas.
- c. soldados.
- d. estrelas.
- e. astros.

8. Assinale a alternativa **correta**.

- a. Vara é o coletivo de cabras.
- b. Século é o coletivo de mil anos.
- c. Fauna é o coletivo de plantas de uma região.
- d. Flora é o coletivo de animais de uma região.
- e. Ramalhete é o coletivo de flores.

9. Assinale a alternativa em que o adjetivo é uniforme (mesma forma para masculino e feminino).

- a. professor jovem
- b. menina carinhosa
- c. homem perverso
- d. garota esperta
- e. rapaz ateu

10. Assinale a alternativa com o plural **correto** da frase *O menino era surdo-mudo*.

- a. Os menino eram surdo-mudos.
- b. Os meninos eram surdomudos.
- c. Os meninos eram surdos-mudos.
- d. Os meninos eram surdo-mudos.
- e. Os meninos eram surdos-mudo.

Conhecimentos Atuais

5 questões

11. O planeta Terra possui 6 continentes (América, Ásia, Europa, Oceania, África e Antártica). O Brasil localiza-se na América, porém esse continente pode ser subdividido de duas maneiras distintas, sendo elas:

- a. América do Sul, de acordo com sua aproximação ao Meridiano de Greenwich e América Latina, de acordo com os aspectos linguísticos e culturais.
- b. América do Norte, América Central e América do Sul, onde nessa distribuição continental o Brasil está localizado na porção centro-oriental e América Latina e América Anglo-Saxônica, observando-se os processos de colonização.
- c. América do Norte, América Central e América do Sul, de acordo com seus aspectos linguísticos e culturais e América Anglo-Saxônica e América Latina, de acordo com sua localização geográfica.
- d. América do Norte, América Central e América do Sul, de acordo com sua localização geográfica e América Anglo-Saxônica e América Latina, de acordo com seus aspectos linguísticos e culturais.
- e. América do Norte e América do Sul, de acordo com sua localização em relação à Linha do Equador e América Anglo-Saxônica e América Latina, de acordo com sua localização geográfica.

12. O Brasil está na lista dos países mais populosos do mundo. Observando a distribuição populacional brasileira por regiões, é **correto** afirmar:

- a. A Região Norte é a mais populosa do país, tendo em vista que é a maior em extensão territorial.
- b. A Região Sudeste, por ser a mais desenvolvida, é a que apresenta maior número populacional.
- c. A Região Centro-Oeste é a que apresenta um maior número de pessoas, tendo em vista que a capital do país se localiza nessa porção do espaço geográfico brasileiro.
- d. Na Região Nordeste o número de habitantes é reduzido devido à baixa pluviosidade que engloba todos os estados nordestinos.
- e. A Região Sul é a segunda maior região do país, o que acarreta um grande número de habitantes.

13. Assinale a alternativa **correta** sobre os estados e capitais do Brasil.

- a. A Região Nordeste apresenta 9 estados, sendo a Bahia seu estado mais populoso.
- b. A Região Norte apresenta 6 estados, sendo o Amazonas o maior em extensão territorial.
- c. Tanto a Região Sul como a Centro-Oeste apresentam 3 estados que as compõem, onde Goiás faz fronteira com o Paraná.
- d. Mato Grosso, Mato Grosso do Sul e Goiás possuem as respectivas capitais: Cuiabá, Campo Grande e Goiânia. Dois estados pertencem à região Centro-Oeste e um à região Sul.
- e. Teresina é a capital de Pernambuco e se localiza na Região Nordeste.

14. Assinale a alternativa **correta** sobre o Estado de Santa Catarina.

- a. O Estado de Santa Catarina localiza-se ao Sul do Brasil, abaixo do Trópico de Câncer.
- b. O Estado Catarinense faz fronteira com o Paraná (ao Norte), Rio Grande do Sul (ao Sul), Oceano Atlântico (Oeste) e Argentina (Leste).
- c. A economia da região encontra-se bem distribuída. Na Grande Florianópolis destacam-se os setores tecnológico, moveleiro e metal-mecânico, enquanto no Planalto Serrano o turismo se destaca.
- d. Santa Catarina é o menor Estado em território do Sul do país, subdividido em oito principais regiões: Litoral, Nordeste, Planalto Norte, Vale do Itajaí, Planalto Serrano, Sul, Meio-Oeste e Oeste.
- e. Santa Catarina é considerado um Estado de grande densidade demográfica, destacando-se o oeste catarinense por apresentar maior população residente.

15. Assinale a alternativa **correta** sobre o Município de Balneário Camboriú.

- a. As principais atividades econômicas de Balneário Camboriú são o comércio e a indústria têxtil.
- b. Possui uma população média de 300 mil habitantes, sendo o segundo maior município em número de habitantes.
- c. As atrações turísticas encontradas no município são abundantes, porém há poucas opções de praias próprias para o banho.
- d. Localizado no litoral sul de Santa Catarina, Balneário Camboriú é um dos principais destinos turísticos do sul do Brasil e do Mercosul.
- e. Conhecido por ser um dos principais destinos turísticos do Estado, Balneário Camboriú limita-se com os municípios de Itajaí, Camboriú e Itapema.

Conhecimentos Específicos

25 questões

16. A máquina ilustrada abaixo, segundo a maneira de proceder a escavação e devido à forma construtiva do implemento escavador, é considerada como um tipo de escavadeira com caçamba:

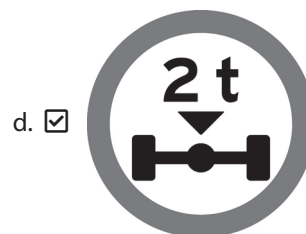
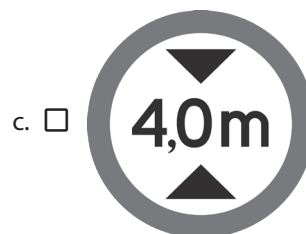



- a. frontal.
- b. de arrasto.
- c. invertida.
- d. de mandíbula.
- e. de articulação múltipla.

17. A denominação que se dá a qualquer superfície inclinada de um maciço de solo ou rocha é:

- a. Talude.
- b. Vala.
- c. Curva de nível.
- d. Escarpa.
- e. Ravina.

18. De acordo com o Código de Trânsito Brasileiro vigente, a placa de sinal de regulamentação que indica o “peso máximo permitido por eixo” é:



19. De acordo com o Código de Trânsito Brasileiro vigente, ruas, avenidas, vielas, ou caminhos e similares abertos à circulação pública, situados na área urbana, caracterizados principalmente por possuírem imóveis edificadas ao longo de sua extensão, são chamados de:

- a. Via arterial.
- b. Via rural.
- c. Via de trânsito rápido.
- d. Via local.
- e. Via urbana.

20. De acordo com o Código de Trânsito Brasileiro vigente, a parte da via, devidamente sinalizada e protegida, destinada ao uso de pedestres durante a travessia da mesma, é chamada de:

- a. Acostamento.
- b. Refúgio.
- c. Área de espera.
- d. Bordo da pista.
- e. Ciclovía.

21. De acordo com o Código de Trânsito Brasileiro vigente, as infrações punidas com multa classificam-se, de acordo com sua gravidade, nas seguintes categorias:

- a. infração de natureza grave, média, leve e levíssima.
- b. infração de natureza gravíssima, grave, média, leve e levíssima.
- c. infração de natureza gravíssima, grave, média e leve.
- d. infração de natureza grave, média e leve.
- e. infração de natureza gravíssima, média e leve.

22. De acordo com o Código de Trânsito Brasileiro vigente, é considerada uma infração grave quando o condutor:

- a. Deixa de usar o cinto de segurança ou permite que o passageiro deixe de usar o cinto de segurança.
- b. Usa o veículo para arremessar, sobre os pedestres ou veículos, água ou detritos.
- c. Atira do veículo ou abandona na via objetos ou substâncias.
- d. Dirige ameaçando os pedestres que estejam atravessando a via pública, ou os demais veículos.
- e. Dirige sem atenção ou sem os cuidados indispensáveis à segurança.

23. De acordo com o Código de Trânsito Brasileiro vigente, o trator de roda, o trator de esteira, o trator misto ou o equipamento automotor destinado à movimentação de cargas ou execução de trabalho agrícola, de terraplenagem, de construção ou de pavimentação só podem ser conduzidos na via pública por condutor habilitado na(s) seguinte(s) categoria(s):

- a. A, B ou C.
- b. B, C, D ou E.
- c. C, D ou E.
- d. B ou C.
- e. E.

24. De acordo com o Código de Trânsito Brasileiro vigente, assinale a alternativa que indica um equipamento **não obrigatório** dos veículos.

- a. Encosto de cabeça, para todos os tipos de veículos automotores.
- b. Dispositivo destinado ao controle de emissão de gases poluentes e de ruído.
- c. Equipamento suplementar de retenção - air-bag frontal para o condutor e o passageiro do banco dianteiro.
- d. Cinto de segurança.
- e. Farol auxiliar.

25. De acordo com o Código de Trânsito Brasileiro vigente, quanto à espécie, um trator de esteiras é considerado um veículo:

- a. de passageiros.
- b. de tração.
- c. de carga.
- d. misto.
- e. de coleção.

26. De acordo com o Código de Trânsito Brasileiro vigente, onde não existir sinalização regulamentadora, a velocidade máxima nas vias urbanas de trânsito rápido será de:

- a. 30 km/h.
- b. 40 km/h.
- c. 60 km/h.
- d. 80 km/h.
- e. 90 km/h.

27. De acordo com o Código de Trânsito Brasileiro vigente, transitar com o veículo na faixa ou via de trânsito exclusivo, regulamentada com circulação destinada aos veículos de transporte público coletivo de passageiros, salvo casos de força maior e com autorização do poder público competente, constitui-se em uma infração:

- a. Gravíssima.
- b. Grave.
- c. Média.
- d. Leve.
- e. Levíssima.

28. Assinale a alternativa que indica **corretamente** uma técnica de direção corretiva.

- a. Manter distância segura entre veículos.
- b. Decidir não dirigir com sono.
- c. Decidir não dirigir sob efeito de medicamentos com reações colaterais.
- d. Não usar o celular enquanto dirige.
- e. Sinalizar a via após um acidente.

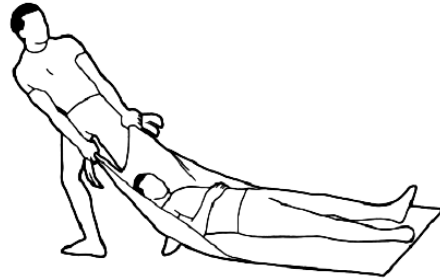
29. O tipo de acidente no qual o veículo gira completamente em torno de seu eixo vertical, imobilizando-se apoiado sobre a sua cobertura, ficando com as rodas para cima, é conhecido como:

- a. Tombamento.
- b. Engavetamento.
- c. Capotamento.
- d. Abalroamento.
- e. Saída de pista.

30. Ao dirigir, é considerado um automatismo **correto** do condutor:

- a. Permanecer com a mão para fora da janela.
- b. Permanecer com a mão na marcha.
- c. Descansar o pé no pedal da embreagem.
- d. Acionar os pedais com a pontinha dos pés ou com o pé inteiro, sem apoiar o calcanhar.
- e. As marchas devem ser trocadas no tempo certo, sem forçar o motor.

31. Analise a imagem abaixo:



O método de transporte de acidentado apresentado na imagem é conhecido como:

- a. Transporte ao colo.
- b. Transporte de arrasto.
- c. Transporte nas costas.
- d. Transporte de bombeiro.
- e. Transporte de apoio.

32. Quando a vítima de um acidente apresenta perda de sangue proveniente de ruptura, dilaceramento ou corte de um vaso sanguíneo, tal fato caracteriza a ocorrência de:

- a. Hemorragia.
- b. Fratura.
- c. Estado de choque.
- d. Parada cardíaca.
- e. Parada respiratória.

33. O componente de motor de combustão interna apresentado na imagem ao lado recebe o nome de:



- a. Biela.
- b. Balancim.
- c. Bronzina.
- d. Virabrequim.
- e. Volante de inércia.

34. Em um motor alternativo de combustão interna, a posição que caracteriza que o pistão muda de sentido de movimento, estando no seu máximo, é conhecida como:

- a. Ponto morto inferior.
- b. Cilindrada.
- c. Ponto morto superior.
- d. Ponto de ignição.
- e. Curso do pistão.

35. Em um pneu com designação 185 / 60 R 14 82 H, a indicação "82" representa:

- a. A relação entre a altura e a largura da secção do pneu.
- b. O índice de carga.
- c. O diâmetro interno do pneu.
- d. O índice de velocidade.
- e. A largura do pneu em milímetros.

36. No painel de instrumentos de um veículo, o símbolo ao lado indica:

- a. Desembaçador de vidro traseiro.
- b. Pressão dos pneus.
- c. Luz de neblina.
- d. Luz de alerta.
- e. Luz do sistema de freio ABS.



37. O componente de sistema de freio automotivo apresentado na imagem ao lado recebe o nome de:

- a. Tambor de freio.
- b. Disco de freio.
- c. Sapata de freio.
- d. Pastilha de freio.
- e. Cilindro mestre.



38. O equipamento apresentado na imagem ao lado é classificado como um equipamento:

- a. nivelador.
- b. escavador elevador.
- c. escavador carregador.
- d. escavador deslocador.
- e. transportador.



39. Identifique abaixo as afirmativas verdadeiras (V) e as falsas (F) com relação às principais funções de uma motoniveladora.

- () Carregar material em caminhões com caçamba.
- () Desgarramento e escarificação.
- () Escavar valas.
- () Nivelar terrenos.
- () Criação e manutenção de taludes.

Assinale a alternativa que indica a sequência **correta**, de cima para baixo.

- a. V•V•F•V•F
- b. V•F•V•F•V
- c. F•V•F•V•V
- d. F•V•F•V•F
- e. F•F•V•V•F

40. Analise a imagem abaixo:



O implemento agrícola apresentado na imagem é conhecido como:

- a. Arado.
- b. Grade.
- c. Subsolador.
- d. Sulcador.
- e. Enxada rotativa.

**Página
em Branco.
(rascunho)**

**Página
em Branco.
(rascunho)**

Utilize a grade ao lado para anotar as suas respostas.

Não destaque esta folha. Ao entregar sua prova, o fiscal irá destacar e entregar esta grade de respostas que você poderá levar para posterior conferência.



GRADE DE RESPOSTAS

1		673 Operador de Máquinas	21	
2			22	
3			23	
4			24	
5			25	
6			26	
7			27	
8			28	
9			29	
10			30	
11			31	
12			32	
13			33	
14			34	
15			35	
16			36	
17			37	
18			38	
19			39	
20			40	

PREFEITURA
**BALNEÁRIO
CAMBORIÚ**

**CONCURSO
PÚBLICO**

Secretaria de
Gestão Administrativa

EDITAL 006/2022



FUNDAÇÃO DE ESTUDOS E PESQUISAS SOCIOECONÔMICOS

Campus Universitário • UFSC
88040-900 • Florianópolis • SC
Fone/Fax: (48) 3953-1000
<http://www.fepese.org.br>